


DOOLHOF

Kun jij samen met Peter de bal terugvinden?



REKENRAADSEL

$$\text{Cup} + \text{Cup} + \text{Cup} = 27$$

$$\text{Teapot} + \text{Cup} + \text{Cup} = 30$$

$$\text{Teapot} - \text{Cake} = 8$$

$$\text{Cup} + \text{Teapot} + \text{Cake} = ?$$

ZOEK DE VERSCHILLEN

Kun je de tien verschillen tussen deze twee afbeeldingen vinden?



REKENRAADSEL

$$\text{remote} \times \text{remote} = 9$$

$$\text{remote} + \text{vcd} = 18$$

$$\text{vcd} - \text{tv} = 8$$

$$\text{vcd} \div \text{remote} \times \text{tv} = ?$$


KENNISVRAAG

Hoelang zouden 65 aardejaren duren als we op Mars waren?

- a) 44.655 aardedagen
- b) 33.544 aardedagen
- c) 22.466 aardedagen

PARENCLUB

Trek binnen 20 seconden lijnen tussen hetzelfde gereedschap. Het eerste paar is al voor je gedaan.



PAARDENSPRONG

Welk woord staat hier? Los de paardensprongpuzzel op.
Begin bij de vette letter.

P	R	U
N	N	E
E	P	K
O	L	D

SUDOKU

Noteer de juiste cijfers in de lege vakjes.
Elk getal mag slechts één keer voorkomen
in een rij, kolom of vet omrand vak.

9	5		7			4	8	1
	4		2	1	8	9		5
		3				2	6	
	3					1		4
4		6			5		9	3
	1	9	3		2		7	6
	7	4	8	5		6	1	
2	6				1			
5			6					8

ZOEK DE VERSCHILLEN

Kun je de tien verschillen tussen
deze twee afbeeldingen vinden?



PUNTJE-PRECIËS

Verbind de punten om de afbeelding te onthullen.



Voor deze puzzel heb je misschien je bril nodig!

KENNISVRAAG

Hoe lang is de langste sjaal die ooit is gebreid?

- a) 1612,26 meter
- b) 2187,36 meter
- c) 4565,46 meter

KENNISVRAAG

De grootste vlinder die we kennen is de *Ornithoptera alexandrae* of Alexandra's vogelvlinder. Deze reus kun je alleen vinden in Papoea Nieuw-Guinea. Wat is zijn spanwijdte?

- a) 15 cm
- b) 20 cm
- c) 25 cm

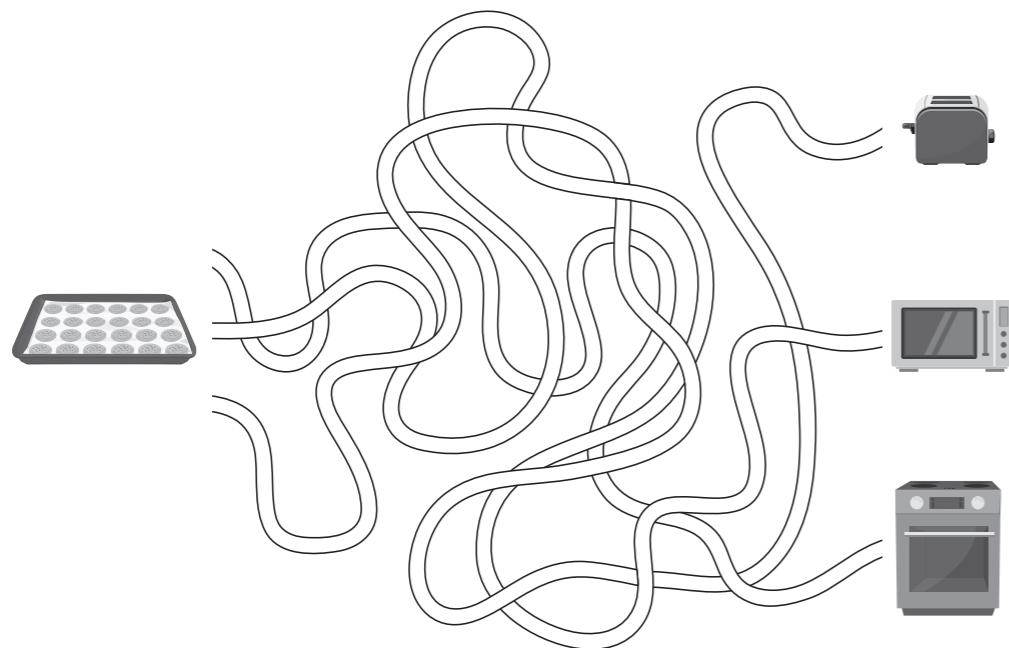
SUDOKU

Noteer de juiste cijfers in de lege vakjes. Elk getal mag slechts één keer voorkomen in een rij, kolom of vet omrand vak.

6		2	4				
	5		7	2	8		
5				9		3	
		3	2		1	5	
				6		1	4
	4	5		1			8
3		6				4	
8	2				7		1

DOOLHOF

Kun jij helpen de koekjes naar de oven te brengen?



CIJFERBLOK

Vul getallen in van 0 t/m 9. De som van de getallen staat onder of naast de rij, horizontaal, diagonaal en verticaal.

			18
			14
3	5		17
4	3		15
8	12	26	14

KENNISVRAAG

Welk van deze landen heeft de laagste gemiddelde pensioenleeftijd?

- a) Nepal
- b) Sri Lanka
- c) Canada

SUDOKU

Noteer de juiste cijfers in de lege vakjes. Elk getal mag slechts één keer voorkomen in een rij, kolom of vet omrand vak.

	9	1			3			
					8			
	4		5	6	1			2
	8			5	4		9	7
		7					6	
9	5		6	8				4
3			8	2	9			7
			7					
			1			8	3	