



3




6





9




8



1



7



- Hoeveel bloemen bezoekt elke bij?
Kijk goed naar het aantal strepen op hun lijfje en kleur het juiste aantal bloemen in.
- Kleur de bijennesten in om te weten naar welk nest elke bij vliegt.
Kijk goed naar de cijfers op de nesten.
- Kleur nu de rest van de pagina in.
Welke cijfers zie je verschijnen?