





Reken uit en schrijf de uitkomst in de bloemblaadjes.



Felix wil niet in het water vallen. Enkel de stenen met een getal dat je kunt delen door 7 liggen vast. Help jij hem de rivier over te steken?

