


1. Teken koekjes bij tot je 10 koekjes hebt.



1. 😊 😐

2. 😊 😐


3. 😊 😐

4. 😊 😐

5. 😊 😐

6. 😊 😐

2. Optellen!



$$2 + 4 = \square$$

3. Kijk goed naar het patroon. Wat volgt er? Trek er een cirkel omheen.




4. Welke dag volgt er op woensdag?

donderdag

zaterdag

5. Teken een koekje op het bord.



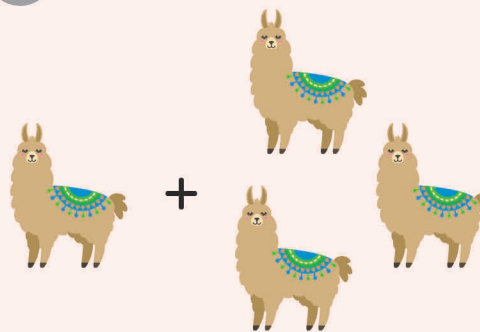
6. Omcirkel het derde konijn.



1. Tel de rode bloemen. Teken evenveel waterdruppels.



2. Optellen!




$$1 + 3 = \square$$


3. Kijk goed naar het patroon en maak het rijtje volledig.




4. Omcirkel de klok waarop het 2 uur is.



5. Het speelgoed ligt ... de kast. Omcirkel het juiste antwoord.
OP ONDER NAAST



6. Er zitten twee katten op de muur. Één kat springt naar beneden. Hoeveel katten zitten er nog op de muur?



katten

1. 😊 😐

2. 😊 😐

3. 😊 😐

4. 😊 😐

5. 😊 😐

6. 😊 😐

