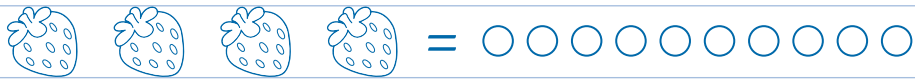



★ Tellen maar! Kleur het juiste aantal bolletjes in.



★ Teken met je potlood over de stipjes en schrijf de cijfers op.



★ Tel het aantal voertuigen en omcirkel het juiste cijfer.



★ Pak je potlood en ga aan de slag. Teken in elk vak het juiste aantal figuurtjes.

	☆	♡
3		
4		
2		

★ Tel de bolletjes en teken dan een cirkel rond evenveel figuurtjes.



★ Kleur wat bij elkaar hoort in dezelfde kleur.

1

2

3

4



★ Kun jij deze cijfers al helemaal zelf schrijven? Laat dat maar eens zien!

1 1 1

2 2 2

3 3 3

4 4 4

★ Verbind elk cijfer met het juiste aantal bloempjes.

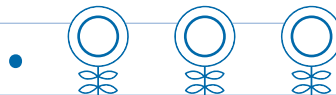
3 •




2 •




1 •




4 •




★ Tellen maar! Verbind de paddenstoelen die evenveel stipjes hebben.





★ Maak groepjes van 3 hartjes. Hoeveel hartjes blijven er over? Teken evenveel bolletjes in het vakje.



★ Sommen maken! Tel het aantal diertjes en kleur dan evenveel bolletjes in.

 +  = ○ ○ ○ ○ ○

 +  = ○ ○ ○ ○ ○ ○

 +  = ○ ○ ○ ○ ○ ○

 +  = ○ ○ ○ ○ ○ ○

★ Hoeveel diertjes tel jij? Teken evenveel bolletjes in het vakje erachter.













 











 

★ Tel het aantal bolletjes, vierkantjes en sterren en schrijf het juiste cijfer in het vakje.

	<input type="text"/>		<input type="text"/>		<input type="text"/>
	<input type="text"/>		<input type="text"/>		<input type="text"/>
	<input type="text"/>		<input type="text"/>		<input type="text"/>
	<input type="text"/>		<input type="text"/>		<input type="text"/>

★ Kleur in elke rij het vak of de vakken waarin meer poppetjes staan dan in het eerste vak.

★ Verbind jij de bolletjes en de cijfers in de juiste volgorde?



5.

4.



3.



2.

1.

★ Verbind elk cijfer met het juiste aantal bolletjes en met het juiste aantal figuurtjes.

1.



2.



3.



4.



5.

