


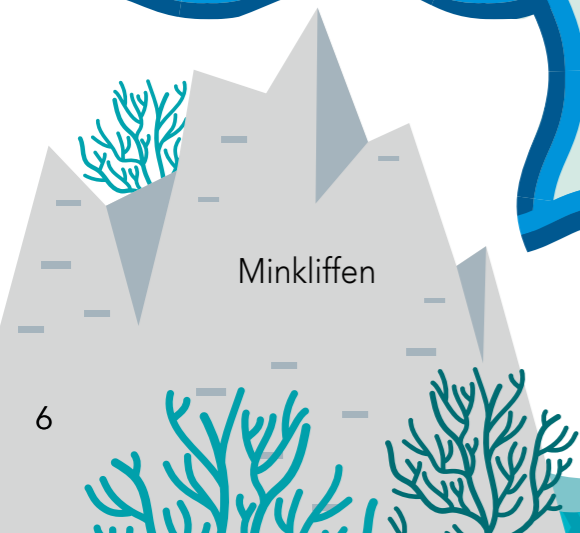
WELKE KANT GAAN WE OP?

Naar de Pluskoraalweiden, de Minkliffen of de Deelkloof? Om de juiste weg te vinden, volg je de vlakken met de sommen **waar 6, 12 of 14 uitkomt**.



Pluskoraalweiden

$2 + 4 =$	$4 - 4 =$	$10 + 3 =$	$5 + 4 =$		
$2 + 8 =$	$5 + 9 =$	$5 - 3 =$	$12 + 3 =$	$6 + 5 =$	$7 + 6 =$
$9 + 4 =$	$8 + 4 =$	$8 + 5 =$	$8 + 2 =$	$5 + 5 =$	$9 + 8 =$
$6 + 1 =$	$6 + 8 =$	$7 + 8 =$	$3 + 4 =$	$10 + 5 =$	$9 + 1 =$
$5 + 2 =$	$5 + 1 =$	$9 + 3 =$	$11 + 3 =$	$4 + 8 =$	$4 + 3 =$
$6 + 4 =$	$7 + 4 =$	$6 + 7 =$	$9 + 5 =$		



Minkliffen

'De bubbels komen van de ...'
'We moeten over het Rekenkoraalrif om er te komen!' roept Aster.



Deelkloof


HET REKENKORAALRIF ZIT VOL LEVEN EN SOMMEN

Hier komen een heleboel soorten om te vermenigvuldigen, te kletsen of iets lekkers te eten. Hieronder zie je alle vissen die onze vriendjes tegenkomen.

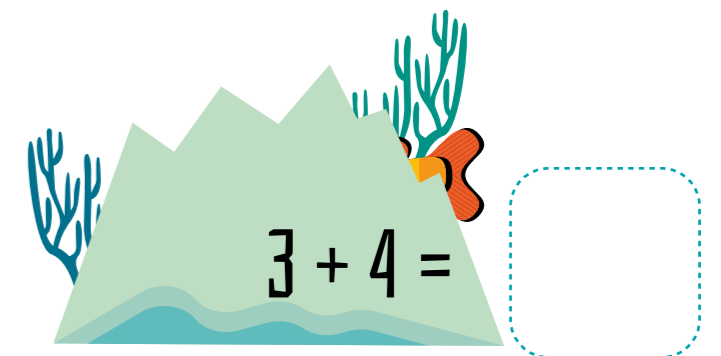





Hoeveel vissen van elke soort komen ze tegen?
Tel de vissen, en tel ze dan op.

SOORTEN	PLAATJE 1	PLAATJE 2	PLAATJE 3	PLAATJE 4	TOTAAL



Clara is een clownvis. Ze legt haar eitjes op het rekenkoraalrif.
Maak de optelsom op elke rots. Plak dan de stickers (achter in het boek) met het juiste aantal eitjes dat Clara legt.



DE RECHTBANK

Rekenen is geen mening, maar toch maken de teams ruzie over de antwoorden. 'Wij hebben gewonnen!' 'Nee, wij!' 'We laten de rechtbank beslissen wie de winnaar is,' zegt de riemvis. Hij zwiept met zijn staart als hij tussen de spelers door zwemt. Help de rechters hun vlag te vinden, **los de sommen op** en zoek de **vlagsticker** met het juiste getal.

$12 \div 4 =$
 $5 \times 3 =$
 $16 \div 4 =$
 $18 \div 3 =$

DE ONTSNAPPING

Terwijl de rechters met elkaar praten en de teams aan het schreeuwen zijn, zwemt Ollie naar Aster en zegt: '**Tijd om te ontsnappen. We moeten terug naar Bob!**' Help de twee vrienden uit de kloof te komen en **volg de weg met veelvouden van 7**.

13, 6, 33, 15, 29, 63
 34, 15, 8, 44, 72, 56
 71, 3, 5, 42, 49, 32
 16, 12, 28, 18
 27, 21, 37
 2, 14, 6
 7, 1
 3

'En zag jij hoe ik die potvissen te slim af was?'

'Ollie, zag je hoe ik die sommen oploste?'